


Aujourd'hui nous sommes :



NOMBRE DU JOUR

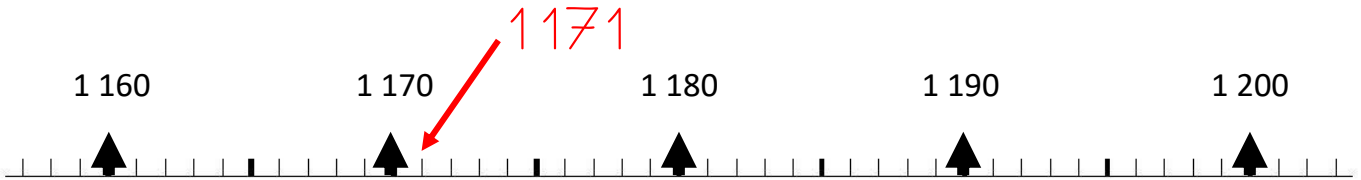
Correction du nombre du jour de Jeudi

$$\begin{array}{r}
 1453 \\
 - 282 \\
 \hline
 1171
 \end{array}$$

(Note: A red circle with '1' is above the 5 in the first row, and a red '+' is below the 2 in the second row. A dashed arrow points down from the 3 in the first row to the 2 in the second row.)

*mille cent soixante et onze*

Place le nombre du jour sur la droite graduée :




Voici le tirage des dés du nombre du jour :



Aujourd'hui, tu dois faire une soustraction pour retrouver le nombre du jour :

$$\begin{array}{r}
 1171 \\
 - \dots\dots\dots \\
 \hline
 \dots\dots\dots
 \end{array}$$

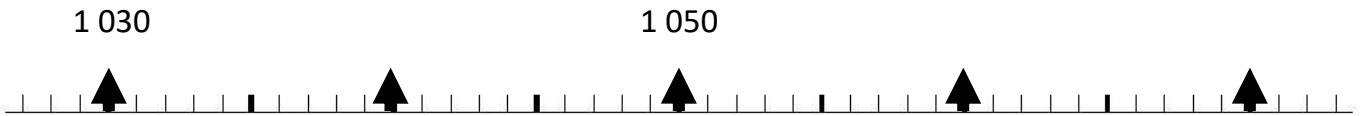


2 : .....

3 : .....

4 : ..... < < .....

Place le nombre du jour sur la droite graduée :



### Conjugaison

Je révise

Au futur, les verbes qui se terminent en -er se conjuguent ainsi :

Verbe à l'infinitif en entier + ai, as, a, ons, ez, ont :

Je ...er + <b>ai</b>	nous ...er + <b>ons</b>
tu ...er + <b>as</b>	vous ...er + <b>ez</b>
elle/il ...er + <b>a</b>	ils/elles ...er + <b>ont</b>

Exemple : je conjugue le verbe parler au futur

je parler**ai** - tu parler**as** - il parler**a** -  
nous parler**ons** - vous parler**ez** - ils parler**ont**

Complète avec les terminaisons au futur (conseil : dis la phrase à l'oral dans un premier temps) :

Demain, je manger..... du poulet.

L'année prochaine, nous calculer..... plus vite.

Dans un an, tu mesurer.... 5 cm de plus.

Dictée.

Je révise les mots (dictée de mots en -euil)

.....

.....

.....

.....

.....

.....

.....

.....

.....

Problèmes

1 Dans un restaurant, il y a 7 tables de 5 places.  
Combien de clients ce restaurant peut-il accueillir ?

Je réponds à la question en faisant une phrase :

.....

2

Lilou veut fabriquer 4 colliers de 18 perles et 1 collier de 13 perles.

➤ Combien de perles Lilou doit-elle acheter ?

Dans ce cadre, je fais mes recherches (dessin, opération...) pour comprendre le problème.

Je réponds à la question en faisant une phrase :

.....

3

M.Léger a 72 €.

Il veut acheter un grille-pain à 39 € et une cafetière à 34 €.

➤ A-t-il assez d'argent ?

Dans ce cadre, je fais mes recherches (dessin, opération...) pour comprendre le problème.

Je réponds à la question en faisant une phrase :

.....

4

La maîtresse avait commandé 2 pots de crayons gris.

Dans chaque pot, il y avait 72 crayons gris.

Au cours de l'année, 1 pot entier a été utilisé et il reste 22 crayons dans le 2ème pot de crayons.

- Combien de crayons ont été utilisés en tout ?

Nombres de crayons dans un pot



Dans ce cadre, je fais mes recherches (dessin, opération...) pour comprendre le problème.

Je réponds à la question en faisant une phrase :

.....

## Calcul mental

1- Compte de 5 en 5 ; de 100 à 200 :

.....

Compte de 2 en 2 ; de 13 à 35 :

.....

2- Calcule :

$42 + 50 =$

$150 + 20 =$

$120 + 60 =$

$180 - 20 =$

$480 - 80 =$

$390 - 10 =$

3- Multiplication : Entraîne-toi à réciter les tables x3 x4 et x5

## Lecture documentaire 4

### L'écureuil



L'écureuil est un petit rongeur avec une belle et longue queue en panache presque aussi longue que son corps. Son pelage peut être gris ou roux.

C'est un animal très vif et agile. Il vit dans les arbres et se déplace en sautant de branche en branche. On le rencontre surtout dans la forêt mais également dans les parcs et les jardins des villes. C'est dans un arbre qu'il installe son nid en forme de boule, fait de rameaux, de feuilles et de poils.

### Alimentation

L'écureuil est omnivore\*. Il se nourrit de glands, de baies, de graines, de champignons, d'insectes...

Chaque année, il fait d'importantes réserves de nourriture en prévision de l'hiver.





## Reproduction

Dans son nid, la femelle met bas\* de trois à six petits qui naissent aveugles et sans poils. Ils n'ouvrent les yeux qu'au bout d'un mois.

### Questionnaire

1) Comment est le pelage de l'écureuil ?

.....

2) Que mange-t-il ?

.....

3) Comment sont les petits à la naissance ?

.....

4) Que fait l'écureuil avant l'hiver ?

.....

	vrai	faux
L'écureuil est herbivore*	<input type="checkbox"/>	<input type="checkbox"/>
On peut voir des écureuils dans les jardins publics.	<input type="checkbox"/>	<input type="checkbox"/>

L'écureuil est un rongeur

Sa queue est plus longue que son corps.



Lexique :

Omnivore : qui mange de tout

Mettre bas : donner naissance, mettre au monde un petit.

Herbivore : qui mange des végétaux

CALCUL

NOMBRES CROISÉS

B

3

	1	2	3	4	5	6	7
A							
B							
C							
D							
E							
F							
G							



HORIZONTAL

A	▶57+62	▶245+83	
B	▶187-142	▶453-231	
C	▶2x2	▶4x9	▶189-143
D	▶688-232	▶3x3	
E	▶5x6	▶200+387	
F	▶4 c 8 u	▶5x9	
G	▶578-576	▶3x6	▶4x4

VERTICAL

1	▶14 d 4 u	▶468-126	
2	▶3x5	▶4x100	
3	▶3x3	▶5x7	▶58+23
4	▶299-33	▶2x4	
5	▶4x8	▶99-45	
6	▶158+66	▶357+494	
7	▶149-141	▶159+538	▶3x2

Rappelle-toi :

Centaines	Dizaines	Unités

Pose tes calculs ci-dessous :