


Aujourd'hui nous sommes :



NOMBRE DU JOUR

Correction du nombre du jour de Mardi

1	3	1	6
1		1	1
9	2	8	
1	1	1	
3	8	8	


*trois cent quatre-vingt-huit*

Voici le tirage des dés du nombre du jour :



Aujourd'hui, tu dois faire une multiplication pour retrouver le nombre du jour :

$$\begin{array}{r} 388 \\ \times \quad 5 \\ \hline \end{array}$$



2 : .....

3 : .....

4 : ..... < <

## Préparation de la dictée

1- Je lis, je copie et j'apprends les nouveaux mots : thème « Les animaux d'Afrique »

des zèbres .....

beaucoup .....

un hippopotame .....

la brousse .....

les prédateurs .....

un éléphant.....

un éléphanteau .....

une lion .....

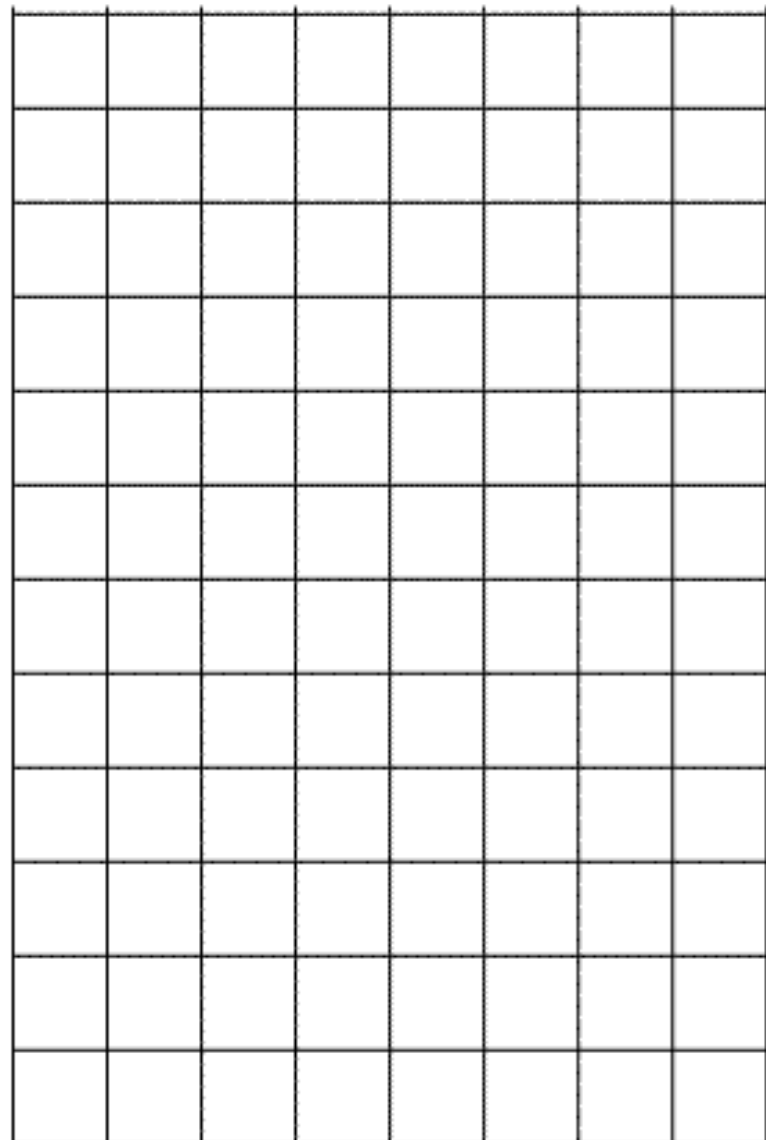
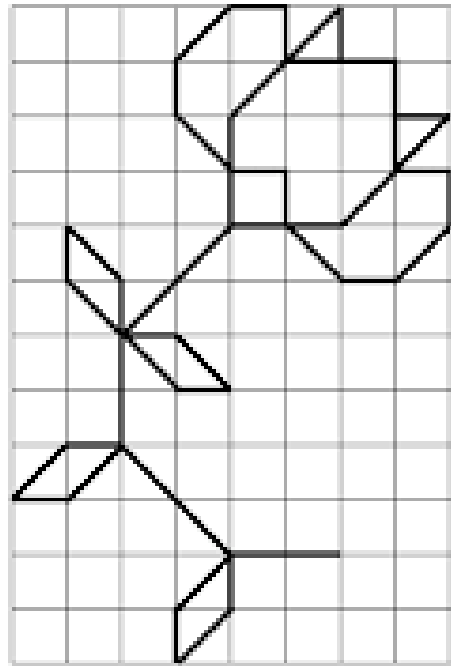
une lionne .....

un lionceau .....

protéger .....

Reproduis la fleur dans le quadrillage et colorie avec soin





## Problèmes

1 A la ferme, chaque poule pond 123 œufs par an. Il y a 3 poules.

➤ Combien d'œufs le fermier récoltera t-il en un an ?

2 Un éléphant boit en moyenne 200 litres d'eau par jour.

Quelle réserve d'eau le zoo doit-il prévoir pour 10 jours ?

3

Denis achète 8 paquets de bonbons et une boîte de chocolats.  
Un paquet de bonbons coûte 4 euros, une boîte de chocolats coûte 12 euros.

➤ Combien Denis va-t-il payer ?

Dans ce cadre, je fais mes recherches (dessin, opération...) pour comprendre le problème.

4

Dimitri a 453 billes et 143 images dans son sac.  
Il donne 64 billes à son copain.

➤ Combien de billes Dimitri a-t-il maintenant ?

Dans ce cadre, je fais mes recherches (dessin, opération...) pour comprendre le problème.

# Mathématiques

## Connaissance des nombres

### Nombres et quantités : de 0 à 1999



1 Complète le tableau:

nombre avant	nombre	nombre après
		1358
1 208		
	1560	
1 997		

2 Complète avec  $<$ ,  $>$  ou  $=$ :

3  15









1 645 ... 1 945    1 100 ... 1 001

1 019 ... 1 910    900 ... 1 009    1 672 ... 762

1 098 ... 1 850    1401 ... 1 140    1 101 ... 888

## Calcul

Calcul Mental (Calculs à dicter en fin de programme)





## Fiche d'entraînement : Les tables de 1 à 5

Complète :

$5 \times 9 = \dots$	$\dots \times 7 = 21$	$8 \times \dots = 40$	$\dots \times 6 = 18$	$2 \times \dots = 20$
$10 \times 5 = \dots$	$4 \times \dots = 36$	$2 \times \dots = 10$	$\dots \times 4 = 28$	$6 \times \dots = 6$
$5 \times 3 = \dots$	$\dots \times 5 = 40$	$\dots \times 9 = 45$	$\dots \times 8 = 24$	$2 \times \dots = 8$
$6 \times 0 = \dots$	$2 \times \dots = 16$	$9 \times \dots = 9$	$9 \times \dots = 45$	$5 \times \dots = 35$
$4 \times 4 = \dots$	$7 \times \dots = 28$	$5 \times \dots = 25$	$\dots \times 7 = 28$	$7 \times \dots = 21$
$6 \times 3 = \dots$	$\dots \times 6 = 30$	$4 \times \dots = 24$	$3 \times \dots = 18$	$\dots \times 3 = 24$
$2 \times 9 = \dots$	$9 \times \dots = 27$	$\dots \times 6 = 24$	$9 \times \dots = 27$	$5 \times \dots = 25$
$4 \times 10 = \dots$	$4 \times \dots = 32$	$9 \times \dots = 36$	$5 \times \dots = 40$	$\dots \times 6 = 12$

## Conjugaison LE FUTUR

1) Révision orale des terminaisons du futur

2) Relie le pronom personnel sujet au verbe qui convient.

- Tu ■ ■ chanterai avec la chorale.  
Vous ■ ■ regarderas ton livre après.  
Je ■ ■ trouverez le chemin.  
Il ■ ■ mangerons un couscous.  
Ils ■ ■ fermera la porte.  
Nous ■ ■ danseront pour la fête.

# Orthographe

Entoure le nom (chef du groupe) dans les groupes nominaux, puis dessine :

Un gros lapin blanc.	Des petites pommes vertes.

Indique le genre (féminin ou masculin ?) et le nombre (singulier ou pluriel ?) des groupes nominaux.

## Aides

### masculin-féminin

un lapin 	une girafe 
l'oiseau 	l'autruche 
un roi 	la sorcière 
le livre 	la tomate 
<i>masculin</i>	<i>féminin</i>

### Singulier - Pluriel

un chat 	➤	des chats
le chat 	➤	les chats
	➤	  

- des cartes postales .....
- une porte vitrée .....
- des vieilles photos .....
- un château abandonné .....





## Le blaireau

On trouve des blaireaux presque partout en Europe. Le blaireau vit dans les bois, les terres cultivées et en plaine.

Il est nocturne : il vit la nuit et passe ses journées à dormir sous terre.

Le blaireau a un corps allongé (un mètre de long) et des pattes courtes.

Son museau est long et rayé de noir. Sa queue est toute petite. Il a une fourrure épaisse avec de longs poils durs. Ses grosses pattes lui servent à trouver de la nourriture et à creuser des terriers. Il pèse jusqu'à 20 kg.

Le blaireau est très propre. Il ne mange jamais à l'intérieur de son terrier. Il fait ses besoins dans des trous qu'il creuse près de l'entrée de sa maison.



## Alimentation

Le blaireau est omnivore : il se nourrit de vers, d'insectes, de petits animaux, de fruits et de céréales. Son museau pointu lui sert à chercher sa nourriture.



## Reproduction

La blairelle met au monde de deux à six petits aveugles qui n'ouvrent les yeux qu'au bout de trois à quatre semaines. On les appelle les blaireautins.

Questionnaire

1) Que fait le blaireau pendant la journée ?

.....

2) De quoi se nourrit-il ?

.....

3) Combien de petits la femelle met-elle au monde ?


.....

4) Quel est le nom de la femelle du blaireau, comment appelle-t-on leurs petits ?

.....

.....

	vrai	faux
Le blaireau vit dans un terrier.	<input type="checkbox"/>	<input type="checkbox"/>
Il fait un mètre de long.	<input type="checkbox"/>	<input type="checkbox"/>
Le blaireau est carnivore.	<input type="checkbox"/>	<input type="checkbox"/>
C'est un animal diurne*.	<input type="checkbox"/>	<input type="checkbox"/>



Lexique

Diurne : qui vit le jour et dort la nuit.



<p>Dessine une grosse patate et une petite patate, un peu pointues au bout</p>	<p>Ajoute les oreilles, le bout du museau, les pattes et la queue</p>	<p>Ajoute des griffes aux pattes, et délimite les zones noires sur le museau. N'oublie pas les petits yeux allongés</p>	<p>Tu peux colorier le "masque" autour des yeux en noir très noir, les pattes en noir aussi. Le pelage, lui, est plutôt gris : c'est un mélange de noir et de blanc, strié</p>





# CEINTURE NOIRE


Si tu as 3 fois deux étoiles, tu obtiens la ceinture noire.

1

$356 + 68$

$248 - 154$

$252 \times 4$

2

$125 + 508$

$482 - 190$

$164 \times 2$




© Hachette École

## Calcul Mental (Opérations à dicter)

$3 \times 7 =$

$4 \times 4 =$

$5 \times 7 =$

$4 \times 9 =$

$78 - 3 =$

$54 - 6 =$

$39 + 9 =$

$37 - 13 =$

1 A la ferme, chaque poule pond 123 œufs par an. Il y a 3 poules.

➤ Combien d'œufs le fermier récoltera t-il en un an ?

Je peux faire une addition :

$$123 + 123 + 123 = 369$$

Je peux faire une multiplication :

$$\begin{array}{r} 123 \\ \times 3 \\ \hline 369 \end{array}$$

2 Un éléphant boit en moyenne 200 litres d'eau par jour.


Quelle réserve d'eau le zoo doit-il prévoir pour 10 jours ?

Pour 1 jour il faut 200 litres. Pour 10 jours, il faut 10 fois 200 litres.

$$200 \times 10 = 2\ 000$$

Je me rappelle. Multiplier par 10 c'est facile !

**Multiplier par 10**

$$13 \times 10 = 130$$


Pour trouver le résultat d'une multiplication par 10, il suffit de noter le nombre multiplié et de placer le zéro du 10 à droite.

3

Denis achète 8 paquets de bonbons et une boîte de chocolats.  
Un paquet de bonbons coûte 4 euros, une boîte de chocolats coûte 12 euros.

➤ Combien Denis va-t-il payer ?



$$8 \times 4 = 32$$

Les 8 paquets de bonbons coûtent 32 euros.



La boîte de chocolats coûte 12 euros.

Je calcule combien Denis va payer :

$$32 + 12 = 44$$

4

Dimitri a 453 billes et 143 images dans son sac.  
Il donne 64 billes à son copain.

➤ Combien de billes Dimitri a-t-il maintenant ?

Dans ce cadre, je fais mes recherches (dessin, opération...) pour comprendre le problème.

$$\begin{array}{r} 453 \\ - 64 \\ \hline 389 \end{array}$$